

2024 年度

豊島岡女子学園中学校

入学試験問題

(3回)

社 会

注意事項

1. 合図があるまで、この冊子を開いてはいけません。
2. 問題は から 、2ページから11ページまであります。
合図があったら確認してください。
3. 解答は、すべて指示に従って解答らんに記入してください。
4. 解答用紙は理科と共通で1枚になっており、この冊子にはさんであります。

I 次の文章を読んで問いに答えなさい。

裁判においては、過去の判例を参照し、そのうえで判決が下されます。また、多くの法律についても、過去の先例の積み重ねによって制定されると言えるでしょう。このように、過去の例や記録を参照し、その先例をもとに意思決定を行うことは、これまでの日本の歴史でも多く見られてきました。特に、近代以前においては先例が重視される傾向が顕著に見られます。

9世紀後半以降、朝廷で行われる(ア)儀式や仕事が年中行事として整えられるようになると、あらゆる行事について手順が細かく定められていきます。それに合わせて、日記を記した人や、先祖が残した日記を引き継いだ人などが、様々な行事の手順や作法に詳しいために朝廷で重んじられるようになりました。当時は摂関政治が行われ、藤原氏が政治を独占した時代だったこともあり、(イ)藤原道長も『御堂関白記』という日記で行事について書き残しています。

鎌倉時代になると、北条泰時により、源頼朝以来の先例と武士の慣例に基づく(ウ)御成敗式目が制定されました。その後の室町時代においても御成敗式目は基本法典とされ、室町幕府の法令は、必要に応じて追加で発布される形をとり、(エ)建武以来追加と呼ばれました。

先例を重視する取り組みは、江戸時代にも見られます。武家諸法度は将軍の代替わりごとに繰り返し更新されるものの、基本的にその内容は引き継がれていきました。こうした背景には、「古法墨守」という古くからの方法や形式を重視する考え方があったことが挙げられます。また、(オ)御触書集成という、過去に幕府が出した法令の内容を種類ごとにまとめたものが4度にわたって作成されました。こうして、江戸時代の法令や判例は、先例として後の時代に残されていったのです。

明治維新後は、政治の刷新を示すために先例にもとづかない新しい政治の方針が定められていきます。しかし、その中でも、先例を活用する傾向は依然として見られました。例えば、明治新政府が民衆に対して出した最初の禁止令である(カ)は、江戸時代に出された高札(立て札)の内容をそのまま引き継いでいました。

戦後の日本は、先例の継承とは真逆の道を歩んでいきます。(キ)GHQにより戦前の日本のあり方を否定する政策が進められ、非軍事化・民主化が実施されました。GHQにとっては、戦後日本が戦前の先例をもとに再び軍国主義の道へ行くことがないようにする必要があったのです。

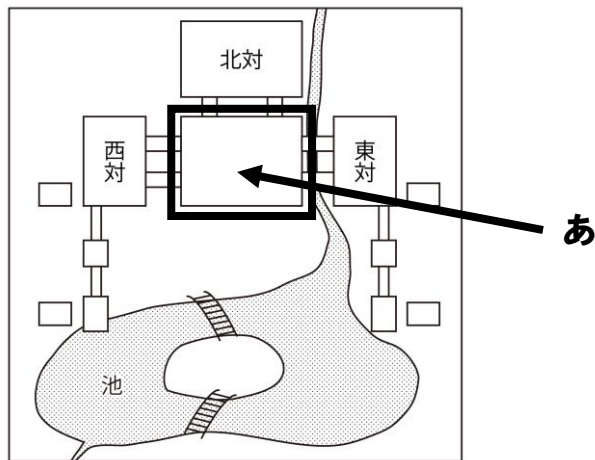
現在に至るまで、過去の事例を参照して現在の施策に活かすというのは多く行われてきました。しかし、時代に応じた施策を実施するためには、ただ先例をそのまま引いてくるのではなく、今の時代に求められていることは何かをしっかりと自分たちの頭で考えることも必要なのではないのでしょうか。

問1. 下線部(ア)に関連して、古代において行われていた儀式や儀礼について説明した次の文のうち、あやまっているものを一つ選び番号で答えなさい。

1. 古墳時代の人々は、古墳の周りに土偶を並べることで死者の魂をしずめようとした。
2. 日本書紀で神話や伝承がまとめられ、即位の儀礼についても記載された。
3. 卑弥呼は神の意志を聞くことにたけており、まじないによって政治を行った。
4. 弥生時代の人々は、銅鏡や青銅器を用いて祭りを行っていた。

問2. 下線部(イ)に関連して、以下の(1)・(2)の問いに答えなさい。

- (1) 平安時代の貴族の日記には、貴族の邸宅などで様々な行事が行われた記録が残されています。次の図は、平安時代の代表的な貴族の邸宅の平面図ですが、図中のあの建物を何と呼びますか、漢字で答えなさい。



- (2) 本文の内容を参考にして、平安時代の貴族が日記を記した理由を、主に誰に向けて記したものにふれながら、20字以内で説明しなさい。

問3. 下線部(ウ)について、以下の(1)・(2)の問いに答えなさい。

- (1) 御成敗式目は、その制定の10年ほど前に起こった出来事をきっかけに土地をめぐる争いが増えたことに対応して作成されました。その出来事を何といいますか、答えなさい。
- (2) 次の文章は、御成敗式目の一部を現代語に改めたものです。文章中の空らんにあてはまる語句を、漢字で答えなさい。

頼朝公の時代に定められたように、諸国の（ ）の職務は、御家人を京都の警備につかせることや、謀反や殺人などの犯罪人を取り締まることであって、それ以外のことはしてはならない。

問4. 下線部(エ)について、「建武」というのは元号ですが、次の文のうち、この時期の出来事として正しいものを一つ選び番号で答えなさい。

1. 朝廷を監視するために、六波羅探題がおかれた。
2. 天皇中心の政治体制に改められたが、武士の不満が高まった。
3. 南朝と北朝がまとまり、南北朝の動乱が終了した。
4. 明との間で、勘合を用いた貿易が始まった。

問5. 下線部(オ)について、四つの御触書集成は、作成が始まった当時の元号をつけて区別されます。下の表の1～4はそれぞれの御触書集成についての説明です。次の(あ)・(い)の法令がどの御触書集成に載っているかを、それぞれ表の1～4から一つ選び番号で答えなさい。

(あ) 異国船が来たら打払いなさい。

(い) 大名は、米1万石につき50石を貯蔵しなさい。

		完成時の将軍	収められた法令の期間
1	御触書寛保集成	徳川吉宗	1615年(元和元年)～1743年(寛保3年)
2	御触書宝暦集成	徳川家治	1744年(延享元年)～1760年(宝暦10年)
3	御触書天明集成	徳川家斉	1761年(宝暦11年)～1787年(天明7年)
4	御触書天保集成	徳川家慶	1788年(天明8年)～1837年(天保9年)

問6. 空らん(カ)にあてはまる語句を答えなさい。

問7. 下線部(キ)に関連して、戦前と戦後の日本の変化について説明した次の文のうち、あやまってい
るものを一つ選び番号で答えなさい。

1. 選挙制度が変わり、女性にも参政権が^{あた}与えられるようになった。
2. 天皇の位置づけが変わり、天皇は神の子孫ではなく人間とみなされるようになった。
3. 農地改革で土地所有の^{じょうきよう}状況が変わり、小作農が増加した。
4. 労働者の権利が変わり、労働組合の^{じょうれい}結成が奨励された。

2 次の各問いに答えなさい。

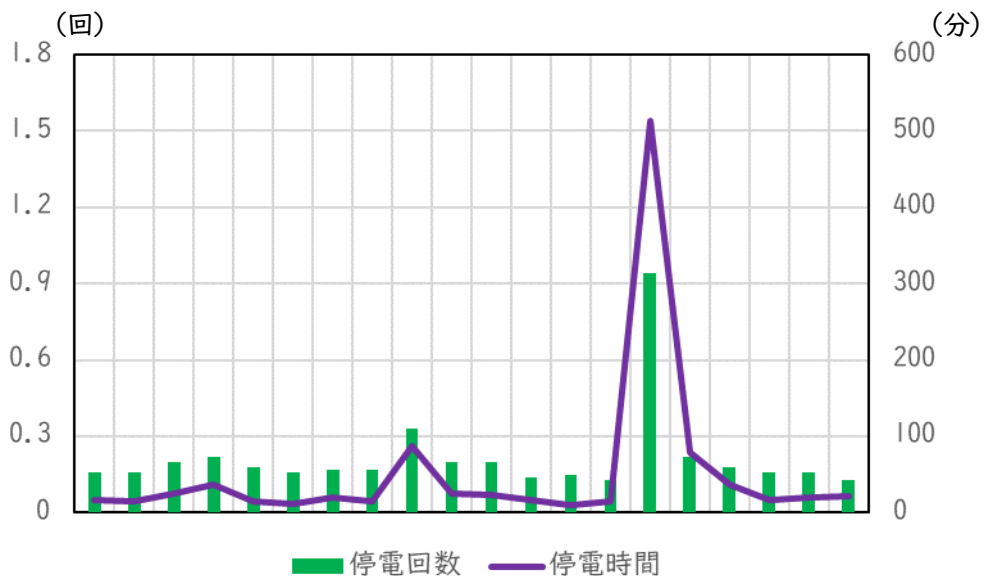
問1. 2000年代以降、経済発展が著しかった5か国をBRICSと総称することがあります。その5か国すべてにあてはまるものを、次のうちから一つ選び番号で答えなさい。

1. 北半球に存在する。
2. 日本よりも面積が大きい。
3. 日本よりも人口密度が高い。
4. 国連の安全保障理事会の常任理事国ではない。

問2. 各都道府県では、観光客を呼び込むためのキャッチコピーを定めています。次の1～5は、大分県・大阪府・岡山県・島根県・鳥取県のキャッチコピーの一部です。この中から、岡山県のもの一つを選び番号で答えなさい。

1. おんせん県
2. 蟹取県
3. ご縁の国
4. 水都
5. 晴れの国

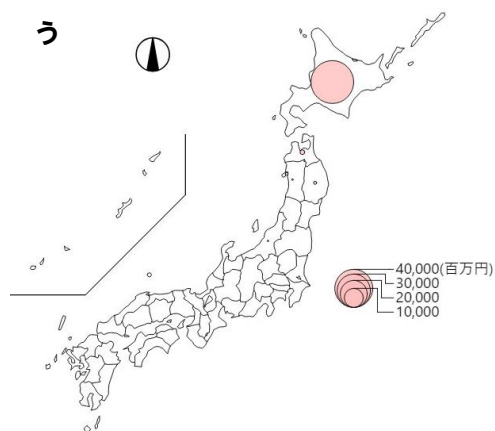
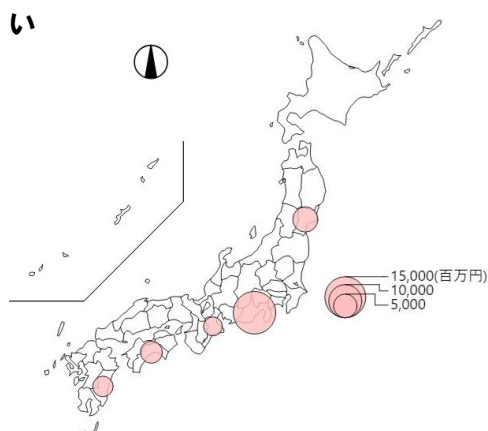
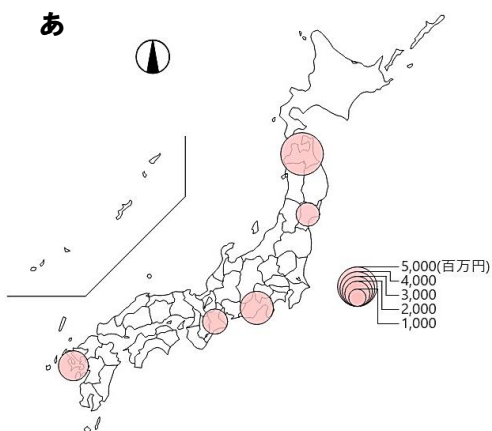
問3. 次のグラフは、日本のある20年の期間における、年度ごとの1軒あたりの停電回数(回)と停電時間(分)を示したものです。このグラフで示されている期間としてもっとも適当なものを、1～5のうちから一つ選び番号で答えなさい。



(電気事業連合会「FEPC INFOBASE2022」より作成)

1. 1981～2000年度
2. 1986～2005年度
3. 1991～2010年度
4. 1996～2015年度
5. 2001～2020年度

問4. 次の図あ～うは、かつお・くろまぐろ・さけます類のいずれかにおける都道府県別産出額の上位5都道府県(2021年)を示したものです。あ～うの組み合わせとして正しいものを、下の表の1～6から一つ選び番号で答えなさい。



(総務省統計局「e-Stat」より作成)

	1	2	3	4	5	6
あ	かつお	かつお	くろまぐろ	くろまぐろ	さけます類	さけます類
い	くろまぐろ	さけます類	かつお	さけます類	かつお	くろまぐろ
う	さけます類	くろまぐろ	さけます類	かつお	くろまぐろ	かつお

問5. 次の地形図中にある真珠養殖場は、どのような地形を利用していますか。その地形名を答えなさい。



(地理院地図より作成)

問6. 次の表は、日本の三つの都道県における可住地面積と可住地面積が総面積に占める割合を表したものです(いずれも2021年)。表中のあ～うは、東京都、長崎県、北海道のいずれかです。あ～うの組み合わせとして正しいものを、下の表の1～6から一つ選び番号で答えなさい。

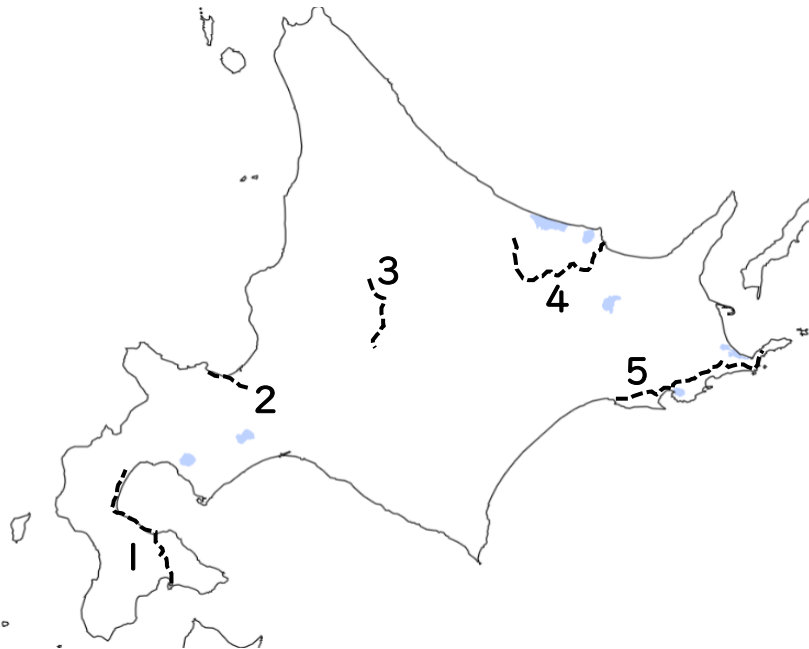
	可住地面積(km ²)	可住地面積が総面積に占める割合(%)
あ	21652	27.5
い	1641	39.7
う	1354	61.7

(※可住地面積とは、総面積から林野面積と主要湖沼面積を差し引いた面積のことです。)

(『データでみる県勢2023』より作成)

	1	2	3	4	5	6
東京都	あ	あ	い	い	う	う
長崎県	い	う	あ	う	あ	い
北海道	う	い	う	あ	い	あ

問7. 次の図中の1～5の鉄道路線の区間のうち、1 kmあたりの1日平均の輸送人員(2022年度)が最も多い区間を選び番号で答えなさい。



問8. 次の表は、1990年以降の日本の輸出額と輸入額の割合の推移を示したものです。表中の**あ**にあてはまるものとして正しいものを、下の1～5から一つ選び番号で答えなさい。

		1990年	2000年	2010年	2021年
輸出額の割合(%)	自動車	17.8	13.4	13.6	12.9
	あ	4.7	8.9	6.2	5.9
	鉄鋼	4.4	3.1	5.5	4.6
	自動車部品	3.8	3.6	4.6	4.3

		1990年	2000年	2010年	2021年
輸入額の割合(%)	原油	13.2	11.8	15.5	8.2
	天然ガスと製造ガス	3.9	4.7	7.0	5.9
	あ	1.4	5.2	3.5	4.0
	事務用機器	2.2	7.1	3.6	3.4

(『データブックオブザワールド 2023』より作成)

1. 衣類 2. 魚介類 3. 石炭 4. 半導体等電子部品 5. 木材

3

次の文章を読んで問いに答えなさい。

近年、デジタル分野の技術革新が目覚ましく、様々な場面で新しい技術が導入されています。例えば、世界各国の企業がデジタル通貨の研究開発を行っています。お金といえは、これまでは(ア)紙幣や硬貨でのやり取りが主でしたが、将来は、形をもたずにデータ上でやり取りされるお金が主流になるかもしれません。また、チャットGPTに代表される生成AIも急速に発展しています。生成AIは、投げかけた質問に対して人間が答えているかのような柔軟な回答をすることができるため、様々な分野での活用が検討されています。

しかし、これらの技術については多くの問題点も指摘されています。デジタル通貨については、サイバー攻撃をされた場合への対応や個人情報の保護について課題があります。また、デジタル通貨が各国の法定通貨より利用されるようになれば、(イ)中央銀行が行う経済政策の効果が薄れる恐れもあります。生成AIについては、レポートや論文、映画の脚本などをAIが作成してしまうことが懸念されています。このようなAIの脅威もあって、アメリカのハリウッドでは脚本家組合と俳優組合が労働を拒否する(ウ)を行い、多くのドラマや映画などの制作が中断する事態にもなりました。また、生成AIが軍事的やテロに使用される恐れがあるとして、(エ)国連安全保障理事会でもその危険性について議論が行われました。(オ)G7の国の中には、プライバシー侵害への懸念から生成AIに対して規制をかける動きもあります。

日本では、コロナ対応で政府のデジタル化の遅れが浮き彫りとなったことから、(カ)2021年にデジタル庁が発足しました。デジタル庁は、生成AIについては技術発展を重視し、まだ規制をかけようとはしていません。しかし、今後デジタル技術の課題が注目されるようになったときに、それに対して行政の対応はどのように変化していくのでしょうか。

私たち国民は主権者としてそのような対応に関心を持っている必要があります。(キ)選挙で選んだ(ク)国会議員や大臣に任せきりにするのではなく、よりよい社会の実現に向けて時に声をあげることも国民の果たすべき役割なのです。

問1. 下線部(ア)について、2024年の7月に新しい紙幣の発行が始まりますが、新紙幣の肖像画に描かれている人物を次のうちからすべて選び、金額の高い紙幣に描かれている順に番号で答えなさい。

1. 北里柴三郎
2. 渋沢栄一
3. 津田梅子
4. 野口英世
5. 森鷗外

問2. 下線部(イ)に関連して、日本の中央銀行である日本銀行について説明した次のあ・いの文が、正しい(O)かあやまっている(X)かの組み合わせとして、正しいものを下から一つ選び番号で答えなさい。

あ. 日本銀行は、日本で紙幣を発行できる唯一の銀行である。

い. 日本銀行は、一般の企業の口座開設を受け付けていない。

1. あ-O い-O 2. あ-O い-X 3. あ-X い-O 4. あ-X い-X

問3. 空らん(ウ)にあてはまる語句を、カタカナ5字で答えなさい。

問4. 下線部(エ)について、次の文章は国際連合憲章の第7条の条文です。文章中の空らんにあてはまる機関として正しいものを、下から一つ選び番号で答えなさい。

1. 国際連合の主要機関として、総会、安全保障理事会、経済社会理事会、信託統治理事会、()
及び事務局を設ける。
2. 必要と認められる補助機関は、この憲章に従って設けることができる。

1. 国際司法裁判所 2. 国際通貨基金 3. 国際労働機関
4. 世界保健機関 5. 世界貿易機関

問5. 下線部(オ)について、G7サミットの首脳会議が開催されたことがある日本の都道府県を、次のうちから二つ選び番号で答えなさい。

1. 愛知県 2. 沖縄県 3. 京都府 4. 広島県 5. 宮城県

問6. 下線部(カ)について、次の文章はデジタル庁設置法の条文の一部です。文章中の空らんにはすべて同じ語句が入ります。空らんにあてはまる語句を、漢字で答えなさい。

第2条 ()に、デジタル庁を置く。

第3条 デジタル庁は、次に掲げることを任務とする。

- 1 デジタル社会形成基本法第2章に定めるデジタル社会の形成についての基本理念にのっとり、デジタル社会の形成に関する()の事務を()官房と共に助けること。
2 基本理念にのっとり、デジタル社会の形成に関する行政事務の迅速かつ重点的な遂行を図ること。

問7. 下線部(キ)に関連して、日本の選挙制度について説明した次の文のうち、正しいものを一つ選び番号で答えなさい。

1. 参議院議員選挙は、必ず3年に1回行われる。
2. 参議院議員選挙では、小選挙区比例代表並立制が採用されている。
3. 衆議院議員と都道府県知事の被選挙権は、ともに満25歳以上である。
4. 選挙日の当日しか投票できないことが、投票率の低さの一因とされる。

問8. 下線部(ク)について説明した次の文のうち、正しいものを一つ選び番号で答えなさい。

1. 国務大臣は、必ず国会議員のなかから選ばれる。
2. 国会議員は、議院内での発言や表決について、院外で責任を問われない。
3. 法律案や予算案は、内閣だけでなく国会議員も国会に提出できる。
4. 国会議員が過ちを犯した場合は、弾劾裁判によって裁かれる。

