

2024 年度

豊島岡女子学園中学校

入学試験問題

(2回)

社 会

注意事項

1. 合図があるまで、この冊子を開いてはいけません。
2. 問題は  から 、2ページから11ページまであります。  
合図があったら確認してください。
3. 解答は、すべて指示に従って解答らんに記入してください。
4. 解答用紙は理科と共通で1枚になっており、この冊子にはさんであります。

## 1 次の文章を読んで問いに答えなさい。

皆さんは、「いろはにほへとちりぬるを（色は匂えど散りぬるを）」で始まる(ア)いろは歌をすべて言えるでしょうか。このいろは歌の作者は定かではありません。(イ)空海とする説もありますが、いろは歌を記した最古の文献<sup>ぶんげん</sup>は11世紀のもので、8世紀から9世紀にかけて活動した空海が作ったことを裏づけるのは少し難しいようです。

いろは歌は、日本語の47音と(ウ)文字を重複することなくすべて1回ずつ用いているので、古来、仮名を習う際に利用されてきました。これ以外にも、47文字を一つも重複することなく綴<sup>つづ</sup>って一文としたものは数多くみられますが、平安時代の『色葉字類抄』や(エ)室町時代の『節用集』<sup>せつようしゅう</sup>といった著名な辞典類も「いろは順」で記されています。他にも、(オ)江戸時代に設置された町火消<sup>まちびけし</sup>は、いろは47組に組分けされているなど、いろは歌は江戸時代までの人々の生活に非常に深くかかわるものだったのです。

さて、冒頭<sup>ぼうとう</sup>の(カ)「色<sup>いろ</sup>が匂<sup>にお</sup>うとは花<sup>はな</sup>が咲<sup>さ</sup>くことであり、「咲いた花も散ってしまう」と始まるいろは歌の内容には、鎌倉時代の文学作品で「祇園精舎の鐘の声、諸行無常の響きあり」という書き出しで有名な(キ)と同じように、「変わらないものは何もない」という仏教的なものの見方が含まれています。

ところで、江戸時代には「仮名手本忠臣蔵」という歌舞伎の演目が大変な人気を博しました。これは、江戸城内で(ク)に切りつけて切腹となった主君の(ケ)の仇<sup>かたき</sup>をとるため、家来の(コ)ら赤穂浪士(四十七士)が(ク)を討ち取った赤穂事件を題材にしたものですが、「仮名手本」とはいろは歌のことであり、いろは47文字と事件に関わった47人の浪士をかけているわけです。また一方で、作者が意図していたかどうかは不明ですが、いろは歌を7語ずつに区切った最後の文字をつなげると「とかなくてしす(科<sup>とが</sup>なくて死す)」という文言を読み取ることができます。ここから、いろは歌からうかがえる「とかなくてしす」というメッセージを意識して、忠義を<sup>つ</sup>尽くして罪科がないのに死に追いやられたという意味を込めて命名したのではないとも言われます。

明治時代になると「あいうえお」の50音順が用いられる場面が増えてきました。これは、明治新政府が日本古来の信仰<sup>しんこう</sup>である神道を重視し、神仏分離政策を進める中で、神仏分離政策を進める中で、仏教と結びつきの深いいろは歌を避けたためとも言われます。50音順自体は平安時代から存在していましたが、(サ)明治時代以降に学校などで用いられたことで、一般にも広まっていったのです。それでも、いろは歌は歴史的に日本社会に根づいていたものであり、現代でも「いろはかるた」などそれに触れる機会<sup>ふ</sup>は多くありますので、いろは歌を知っておくと日本の様々な文化に対する理解が深まるのではないのでしょうか。

問1. 下線部(ア)について、いろは歌の続きとして正しい順になるよう、次のあ～うを並べ替えて記号で答えなさい。(「ゐ」・「ゑ」は「わ行」の「い」・「え」)

- あ. あさきゆめみしゑひもせず (浅き夢見じ酔いもせず)
- い. うゐのおくやまけふこえて (有為の奥山今日越えて)
- う. わかよたれそつねならむ (我が世誰ぞ常ならん)

問2. 下線部(イ)は唐から仏教の新たな宗派をもたらしましたが、それについて説明した次の文のうち、正しいものを一つ選び番号で答えなさい。

- 1. 乱れたこの世をはかなみ、阿弥陀仏にすがって西方極楽浄土に連れて行ってもらうことを願った。
- 2. 病気や災いを取り除くための神秘的な祈りや呪いを重んじ、天皇や貴族たちの信仰を集めた。
- 3. この教えをもとに天下の安泰がはかられ、地方に国分寺を建てたり中央に大仏を作ったりした。
- 4. 古墳にかわって壮大な寺院を建てたり、この教えを国家に仕える役人の心構えに利用したりした。

問3. 下線部(ウ)に関連して、埼玉県と熊本県の古墳から見つかった鉄剣や鉄刀には同じ大王の名が記されていると考えられています。このことから、その時代の支配がどのような状況にあったことがわかりますか、記されている大王の名をあげて30字以内で説明しなさい。

問4. 下線部(エ)の政治・社会経済について説明した次の文のうち、正しいものを一つ選び番号で答えなさい。

- 1. 天皇から征夷大將軍に任じられた足利尊氏は、京都の室町に豪華な花の御所を建てて室町幕府を開いた。
- 2. 商業が発展して月3度の市が立てられるようになり、取り引きには輸入銭である宋銭が用いられ始めた。
- 3. 自治的な村を形成して領主に抵抗する農民が現れ、正長の徳政一揆では地頭の横暴を訴えた石碑が建てられた。
- 4. 応仁の乱で京都は焼け野原となり、地方に下った公家や僧によって都の文化が地方に広まった。

問5. 下線部(オ)について、これを設置した将軍の政策として、正しいものを次から一つ選び番号で答えなさい。

1. 石川島人足寄場にんそくよせばの設置
2. 天保の薪水給与令しんすい
3. 小石川養生所の設置
4. 五百石こく以上の船の建造禁止
5. 湯島聖堂の建設

問6. 下線部(カ)に関連して、「あおによし奈良の都は咲く花の匂うがごとく今さかりなり」という歌がありますが、この歌が詠まれた時よりも後の出来事を次からすべて選び番号で答えなさい。

1. 大輪田泊を修築した平清盛が宋との貿易を開始した。
2. 小野妹子が推古天皇の命を受けて隋に派遣はけんされた。
3. 桓武天皇が蝦夷討伐とうばつのために坂上田村麻呂を派遣した。
4. 唐が滅ぶほろ10数年前に菅原道真が遣唐使の中止を提言した。
5. 中大兄皇子が百濟復興のために朝鮮半島へ軍を派遣した。

問7. 空らん(キ)にあてはまる文学作品は、文字の読めない人にも語り伝えられましたが、それを語り伝えた人々をおもに何といたしますか、漢字で答えなさい。

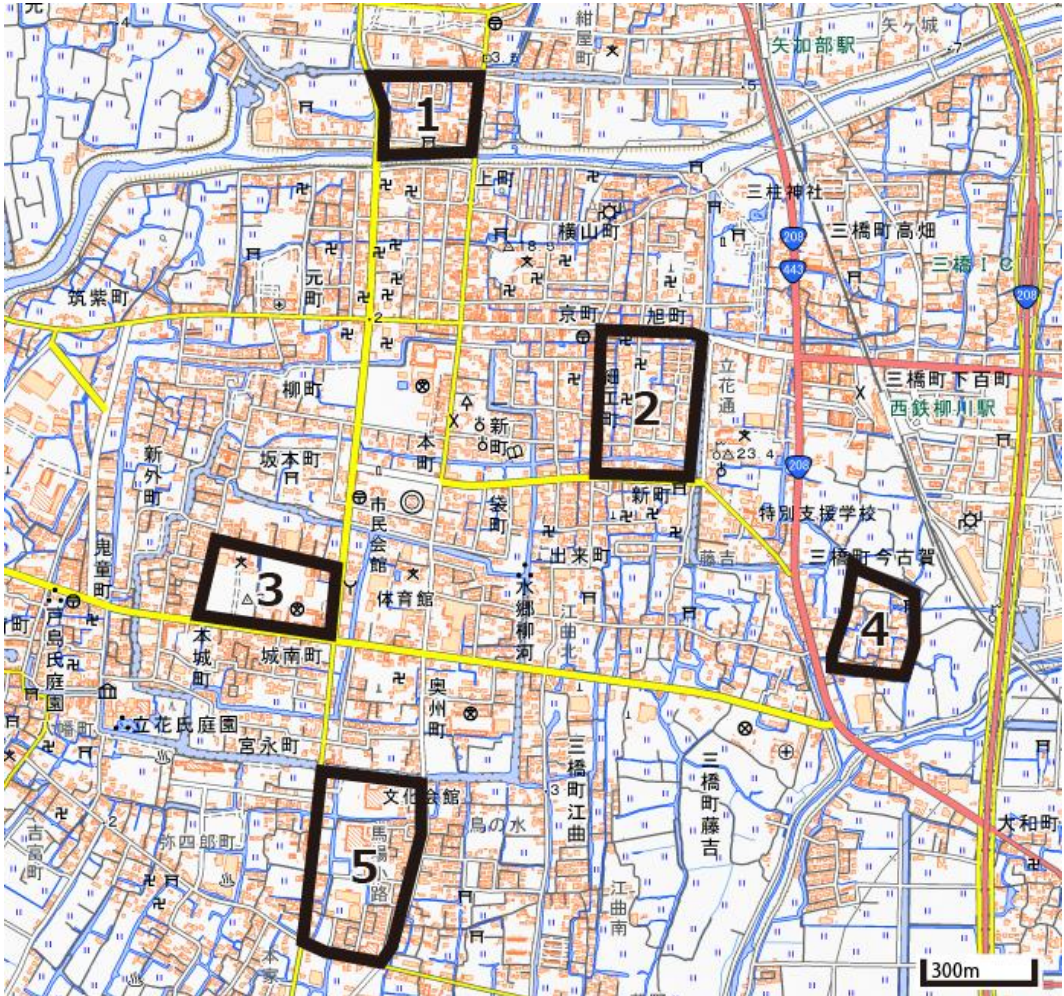
問8. 空らん(ク)～(コ)には、それぞれ①浅野内匠頭たくみのかみ・②大石内蔵助くらのすけ・③吉良上野介きら こうずけのすけのいずれかがあてはまりますが、その組み合わせとして正しいものを次の1～6から選び番号で答えなさい。

1. (ク)①・(ケ)②・(コ)③
2. (ク)①・(ケ)③・(コ)②
3. (ク)②・(ケ)①・(コ)③
4. (ク)②・(ケ)③・(コ)①
5. (ク)③・(ケ)①・(コ)②
6. (ク)③・(ケ)②・(コ)①

問9. 下線部(サ)について、戦前の学校で重要視された当時の教育の理念を示した天皇の言葉で、戦後に国会決議で効力を失ったものを一般に何といたしますか、漢字で答えなさい。

## 2 次の問いに答えなさい。

問1. 次の地形図は福岡県柳川市の市街地を示したものです。この地域は室町時代に柳川城が築かれました。柳川城が築かれた場所として最も適当なものを、図中の1～5から選び番号で答えなさい。



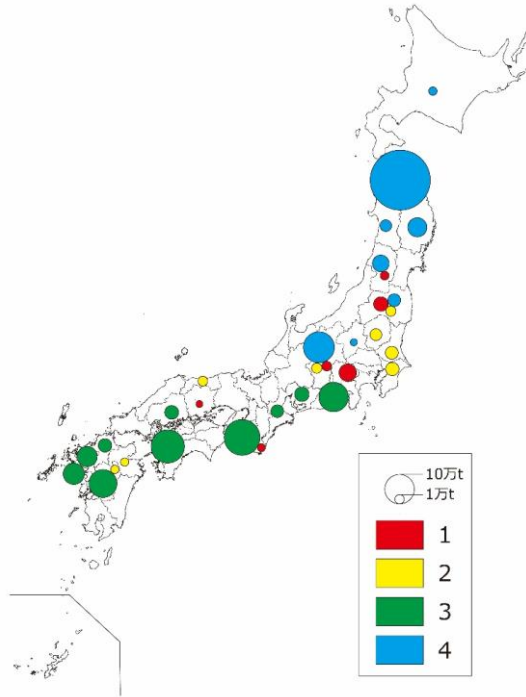
(地理院地図より作成)

問2. 次の表は、秋田・高田(新潟県)・潮岬(和歌山県)・松山・那覇の1月と8月の降水量(ミリメートル)を示したものです(1991年から2020年の平均値)。この中で、松山にあたるものを表の1～5から選び番号で答えなさい。

	1	2	3	4	5
1月	429.6	118.9	101.6	97.7	50.9
8月	184.5	184.6	240.0	260.3	99.0

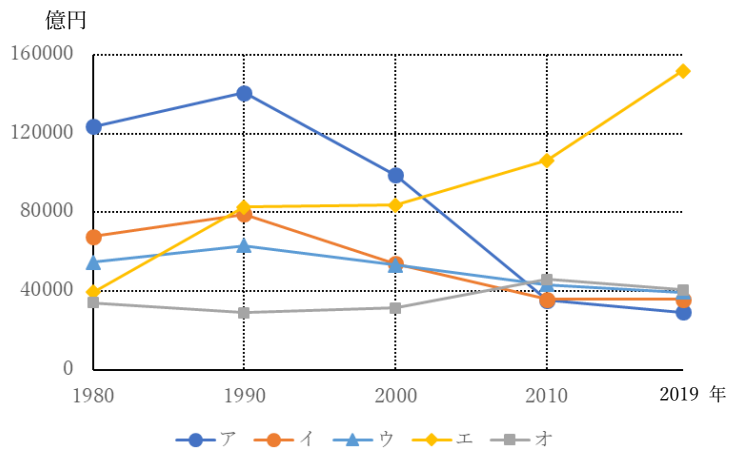
(気象庁HPより作成)

問3. 次の図は果実の県別収穫量（万トン）を示したものです（2021年）。図中の1～4は、日本なし、みかん、もも、りんごのいずれかです。ももにあてはまるものを番号で答えなさい。



（日本国勢図会2023/24より作成）

問4. 次の図は都市別の製造品出荷額等（億円）の推移で、ア～オは市原（千葉県）、大阪、東京23区、豊田（愛知県）、横浜のいずれかです。アにあてはまる都市を下の1～5から選び番号で答えなさい。



（工業統計調査より作成）

1. 市原      2. 大阪      3. 東京23区      4. 豊田      5. 横浜

問5. 次の表は、新幹線の路線別の鉄道旅客営業キロ、旅客輸送人数、\*旅客輸送人キロ(いずれも2021年)を示したものです。表のあ～うの組み合わせとして正しいものを、下の表の1～6から選び番号で答えなさい。

\*旅客輸送人キロ=旅客輸送人数×乗車距離

	旅客営業キロ(km)	旅客輸送人数(万人)	旅客輸送人キロ (百万人キロ)
あ	713.7	4,588	6,898
い	552.6	8,569	25,336
う	288.9	798	978

(日本国勢図会2023/24より作成)

	1	2	3	4	5	6
あ	九州線	九州線	東海道線	東海道線	東北線	東北線
い	東海道線	東北線	九州線	東北線	九州線	東海道線
う	東北線	東海道線	東北線	九州線	東海道線	九州線

問6. 次の表は、日本に在留する外国人人口の総数(千人)と国籍別の割合(%)を都道府県別に示したものです(いずれも2019年)。表のあにあてはまる都道府県を下の1～5から選び番号で答えなさい。

	総数	中国	韓国	ベトナム	フィリピン	ブラジル
愛知	281	18.1	10.5	14.7	14.0	22.2
大阪	256	26.8	38.4	13.5	3.6	1.1
静岡	100	12.3	4.7	12.2	17.6	31.3
あ	62	12.4	3.6	16.2	12.8	21.4
青森	6	20.9	12.2	29.7	11.5	0.6

(国立社会保障・人口問題研究所資料より作成)

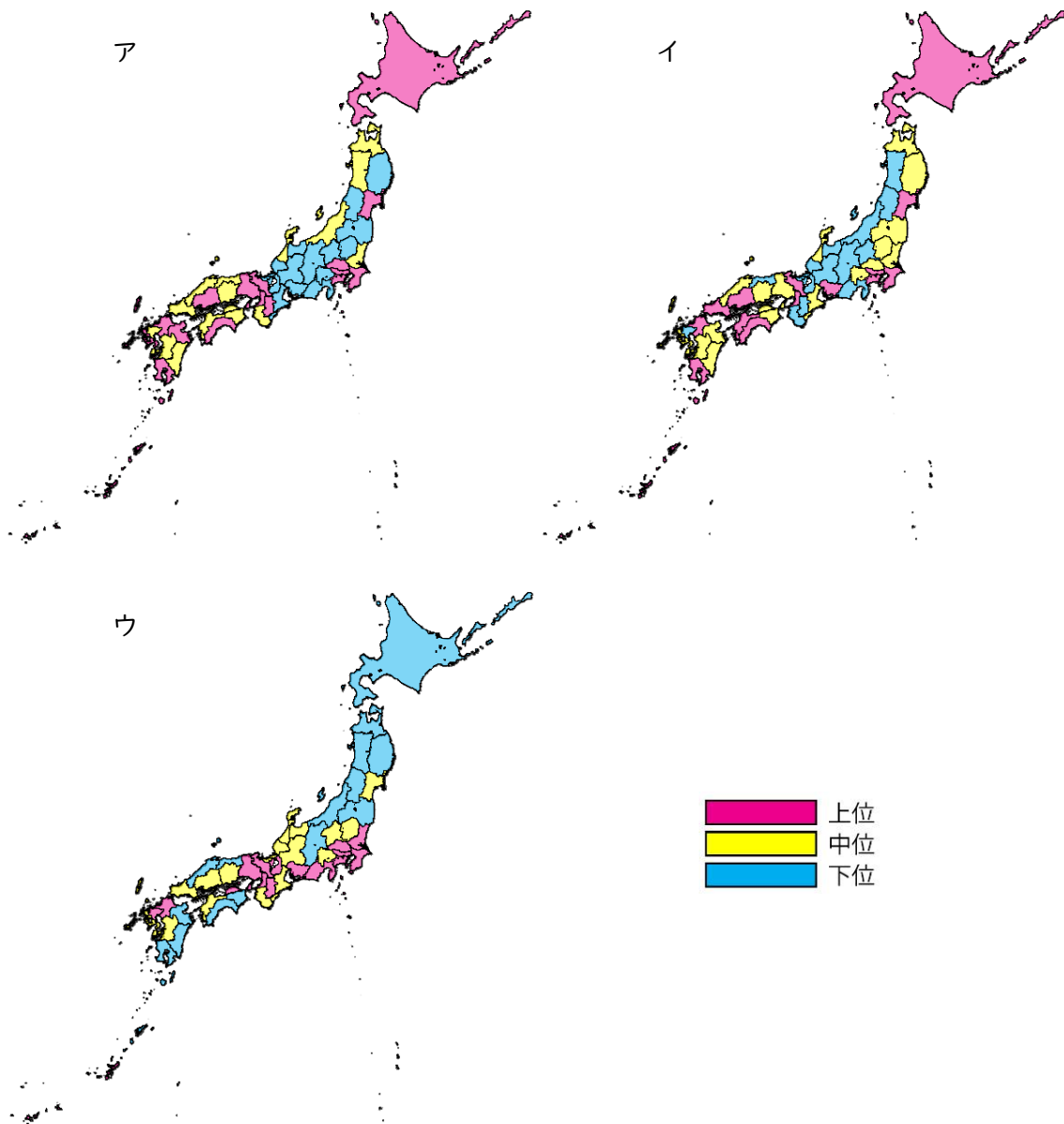
1. 熊本      2. 群馬      3. 東京      4. 北海道      5. 山形

問7. 右の写真の施設は、河川上流の溪流などに設置され、下流へ土砂などが急激に流下しないように貯めておく役割があります。このようなダムを何と呼ぶか答えなさい。



問 8. 次の地図は都道府県別人口密度、第 3 次産業就業人口割合、\*単独世帯割合を上位・中位・下位の 3 段階に分類したものです（いずれも 2020 年）。この組み合わせとして適当なものを下の表の 1～6 から選び番号で答えなさい。

\*一人暮らしのこと。



(JSTAT MAPより作成)

	1	2	3	4	5	6
人口密度	ア	ア	イ	イ	ウ	ウ
第 3 次就業人口割合	イ	ウ	ア	ウ	ア	イ
単独世帯	ウ	イ	ウ	ア	イ	ア



## 3

## 次の文章を読んで問いに答えなさい。

皆さんは、裁判所に行ったことがありますか。本校から地下鉄で15分ほどの場所に東京地方裁判所と東京高等裁判所がありますが、法廷で行われる裁判は原則としてだれでも見ることができます。多くの人々にとって裁判はなじみの薄いものですが、国民の中から選ばれる裁判員が（ア）裁判に参加する裁判員制度が始まってから、今年で15年となりました。この制度は、裁判所が行う裁判に国民が参加することで、国民の意見を裁判に活かし、裁判に対する国民の関心と信頼を高めていくために導入されたものです。

日本では、国の政治を進める役割を立法・行政・司法に分け、それぞれ国会・（イ）内閣・裁判所がそれらの仕事を担っていますが、国の政治についての最終決定権は国民にある国民の国です。ですから、（ウ）立法・行政・司法について、それぞれに国民が関わり、国民の意思を反映できるようなしくみが必要とされており、裁判員制度はそのひとつです。

立法権を持つ国会は、法律や予算、条約の承認など、国の方針を決める役割を、行政権を持つ内閣は、国会で決めた予算や法律を実行する役割を担っています。そして司法権を持つ裁判所は人々の間で起こった争いごとや犯罪について、（エ）憲法や法律にもとづいて判断し、解決する役割を担っています。これら3つの機関が各々の役割をしっかりと遂行できているかどうかを互いにチェックし合う機能がある三権分立となっています。この機能のひとつとして、裁判所には（オ）国会が決めた法律や、内閣による行政行為が憲法に違反していないかどうか、審査する役割があります。昨年5月には、同性婚が認められていないことは（カ）憲法第24条第2項に反している、と名古屋地裁が判断を示したことが話題になりました。このような裁判所の権限は、（キ）国民一人一人の権利を守っていくためにも、とても大切なものです。国会は国民による選挙で選ばれた議員が法律や予算などについて（ク）多数決で決定し、内閣は国会の多数派によって構成されます。多数派の陰に隠れて少数派の権利がおろそかになってしまう危険があるため、裁判所は少数派からの訴えに耳を傾け、憲法に則って判断するという役割もあるのです。

このように裁判所は法秩序の維持を担うだけでなく、国民主権や権力分立、基本的人権の尊重といった観点からもとても重要な機関です。公正で慎重な裁判が行われるようにするため、皆さんも裁判の傍聴に行かれてみてはいかがでしょうか。

問1. 空らん（ア）にあてはまる語句を漢字2字で答えなさい。

問2. 下線部(イ)について、憲法69条で、国会で不信任案が可決された際、10日以内に衆議院が解散されない限り、内閣は総辞職することが規定されていますが、実際には衆議院が解散されても総辞職をすることになります。衆議院が解散された場合、内閣はいつ総辞職しますか。次のうち正しいものを一つ選び番号で答えなさい。

1. 衆議院が解散されたとき。
2. 衆議院議員総選挙の選挙期日が公示されたとき。
3. 衆議院議員総選挙の後、国会が召集されたとき。
4. 衆議院議員総選挙の後、新しい内閣総理大臣が任命されたとき。

問3. 下線部(ウ)について、立法・行政・司法それぞれに国民が関わっていくためのしくみの組み合わせとして最も適当なものを選び番号で答えなさい。

	1	2	3	4	5	6
立法	国政選挙	国政選挙	国民審査	国民審査	情報開示請求	情報開示請求
行政	国民審査	情報開示請求	情報開示請求	国政選挙	国政選挙	国民審査
司法	情報開示請求	国民審査	国政選挙	情報開示請求	国民審査	国政選挙

問4. 下線部(エ)に関する次の文のうち、あやまっているものを一つ選び番号で答えなさい。

1. 憲法は、国の政治の基本的なあり方を定めたものであり、憲法にもとづく政治を立憲政治という。
2. 天皇や大臣、国会議員や裁判官、その他の公務員は、憲法を尊重し、擁護する義務を負っている。
3. 憲法は国の最高法規なので、憲法に反する法律や政令、政府の行為などはすべて無効とされる。
4. 国会が作る法律のうち、特定の地方公共団体にのみ効力が及ぶものを特に条例という。

問5. 下線部(オ)について、このような権限はすべての裁判所が持っていますが、特に最終審を行うことから最高裁判所は何と呼ばれますか、5字で答えなさい。

問6. 下線部(カ)について、以下がその条文ですが、空らんにあてはまる語句を選び番号で答えなさい。

「配偶者<sup>はいぐうしや</sup>の選択、財産権、相続、住居の選定、離婚並びに婚姻<sup>こんいん</sup>及び家族に関するその他の事項に関しては、法律は、と両性の本質的平等に立脚して、制定されなければならない。」

1. 公共の福祉 2. 国事行為 3. 個人の尊厳 4. 信教の自由 5. 平和主義

問7. 下線部(キ)に関連して、人権を守ることを第一の目的として制定されている法律をすべて選び番号で答えなさい。

1. 国旗・国歌法 2. 障害者差別解消法 3. 生活保護法  
4. 男女雇用機会均等法<sup>こよう</sup> 5. 地方自治法

問8. 下線部(ク)について、出席議員の過半数が賛成することで議決される議案を二つ選び番号で答えなさい。

1. 国会議員の除名 2. 憲法改正の発議 3. 条約の承認  
4. 臨時会開催の要求 5. 予算案の議決

